

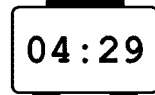
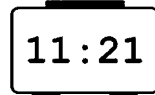


Time: 40 Minutes	Paper Math 3	Total Marks: 25
5th Month, 4th Week, 5th Day		Syllabus: Revision Test (4th Week)

Q.1. Match the time of analog clock with digital clock in the following figures. (10)

درج ذیل اشکال میں ایٹا لگ کلاک کو ڈیجیٹل کلاک سے ملائیں۔



Q.2. Answer the following questions. (10) درج ذیل سوالات کے جوابات دیں۔

JANUARY						
Su	Mo	Tu	We	Th	Fr	Sa
					1	2
3	4	5	6	7	8	9
10	11	12	13	14	15	16
17	18	19	20	21	22	23
24	25	26	27	28	29	30
31						

FEBRUARY						
Su	Mo	Tu	We	Th	Fr	Sa
	1	2	3	4	5	6
7	8	9	10	11	12	13
14	15	16	17	18	19	20
21	22	23	24	25	26	27
28						

MARCH						
Su	Mo	Tu	We	Th	Fr	Sa
	1	2	3	4	5	6
7	8	9	10	11	12	13
14	15	16	17	18	19	20
21	22	23	24	25	26	27
28	29	30	31			

APRIL						
Su	Mo	Tu	We	Th	Fr	Sa
					1	2
3	4	5	6	7	8	9
10	11	12	13	14	15	16
17	18	19	20	21	22	23
24	25	26	27	28	29	30

MAY						
Su	Mo	Tu	We	Th	Fr	Sa
						1
2	3	4	5	6	7	8
9	10	11	12	13	14	15
16	17	18	19	20	21	22
23	24	25	26	27	28	29
30	31					

JUNE						
Su	Mo	Tu	We	Th	Fr	Sa
						1
2	3	4	5	6	7	8
9	10	11	12	13	14	15
16	17	18	19	20	21	22
23	24	25	26	27	28	29
30	31					

JULY						
Su	Mo	Tu	We	Th	Fr	Sa
					1	2
3	4	5	6	7	8	9
10	11	12	13	14	15	16
17	18	19	20	21	22	23
24	25	26	27	28	29	30
31						

AUGUST						
Su	Mo	Tu	We	Th	Fr	Sa
						1
2	3	4	5	6	7	8
9	10	11	12	13	14	15
16	17	18	19	20	21	22
23	24	25	26	27	28	29
30	31					

SEPTEMBER						
Su	Mo	Tu	We	Th	Fr	Sa
						1
2	3	4	5	6	7	8
9	10	11	12	13	14	15
16	17	18	19	20	21	22
23	24	25	26	27	28	29
30	31					

OCTOBER						
Su	Mo	Tu	We	Th	Fr	Sa
					1	2
3	4	5	6	7	8	9
10	11	12	13	14	15	16
17	18	19	20	21	22	23
24	25	26	27	28	29	30
31						

NOVEMBER						
Su	Mo	Tu	We	Th	Fr	Sa
	1	2	3	4	5	6
7	8	9	10	11	12	13
14	15	16	17	18	19	20
21	22	23	24	25	26	27
28	29	30				

DECEMBER						
Su	Mo	Tu	We	Th	Fr	Sa
			1	2	3	4
5	6	7	8	9	10	11
12	13	14	15	16	17	18
19	20	21	22	23	24	25
26	27	28	29	30	31	

(i) What is the date on the first Monday of May?

مئی کے پہلے اتوار کو کیا تاریخ ہے؟

(ii) What is the day on the 15th April?

15 اپریل کو کیا دن ہے؟

(iii) What is the date on the second Friday of August?

اگست کے دوسرے جمعہ کو کیا تاریخ ہے؟

(iv) What is the date on the third Saturday of November?

نومبر کے تیسرے ہفتے کو کیا تاریخ ہے؟

(v) What is the day on the 31st December?

31 دسمبر کو کیا دن ہے؟

Q.1. A train took 13 hours from Lahore to Sukhur. If the same train took 6 hours from Lahore to Multan. How much time did the train take to reach Sukhur from Multan?

ایک ٹرین 13 گھنٹے میں لاہور سے سکھر جاتی ہے۔ اگر یہ ٹرین لاہور سے ملتان 6 گھنٹے میں پہنچے تو ملتان سے سکھر کتنی دیر میں پہنچے گی؟